

(1)安徽省经济欠发达,大量人口外出务工,从而导致人口大量减少。

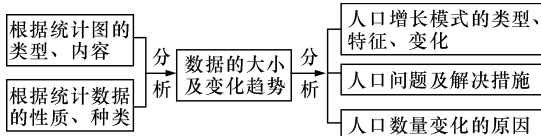
(2)2013年后安徽省常住人口增长率稳定在0.7%以上,但“该省人口自然增长率保持在0.6%~0.7%”,需要外迁人口的回流来补足两者的差距。

技巧点拨

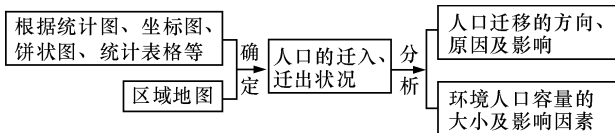
人口、城市与环境关系类试题的答题技巧

人口与城市是当前人们关注的热点问题之一,也是高考每年必定涉及的考查内容。命题方式既有选择题,也有综合题,但考查角度具有一定的规律性,主要表现为以下几种情况

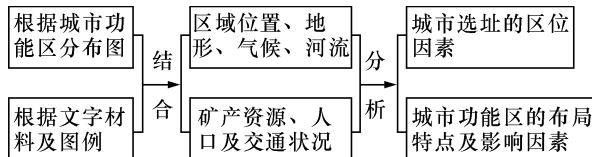
1. 分析人口数量的变化、原因及影响,其答题思路为:



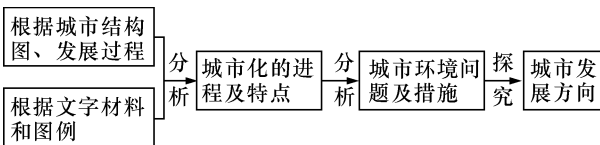
2. 分析人口迁移的影响因素,其答题思路为:



3. 城市区位、城市功能区的布局。该类型试题的答题思路一般为:

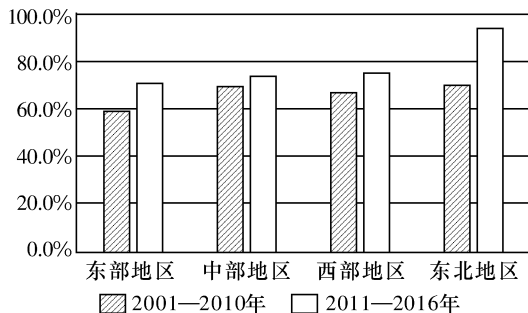


4. 城市化的进程及特点、城市化对地理环境的影响、城市环境问题及解决措施,该类型试题的答题思路一般为:



【变式训练】

下图是2001—2010年和2011—2016年我国四大地区人口流出地区(以县为单位)个数占比图。读图,回答(1)~(3)题。



(1)2001—2010年中部地区人口流出地区个数占比高于西部地区的主要因素是 ()
 A. 位置 B. 资源 C. 技术 D. 经济

(2)影响2011—2016年东部地区人口流出地区个数明显增加的主要原因是 ()

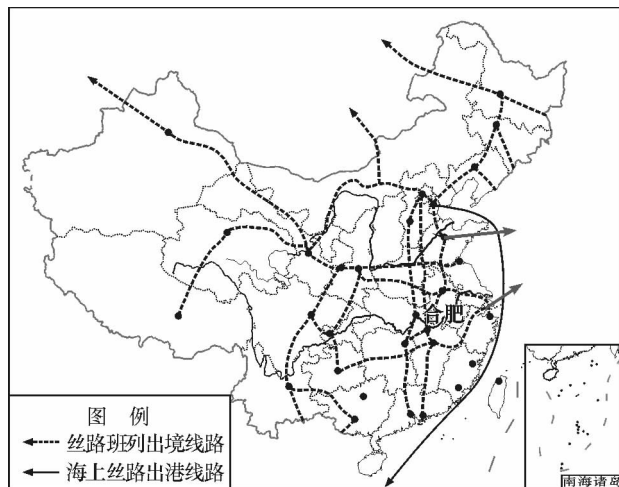
- A. 人口快速增长
- B. 产业转型升级
- C. 经济发展滞后
- D. 交通条件完善

(3)根据东北地区人口流出地区个数占比的变化推测对其未来社会经济发展的主要影响是 ()

- A. 耕地资源压力减轻
- B. 公共设施利用率提高
- C. 环境问题得以改善
- D. 经济活力逐渐减弱

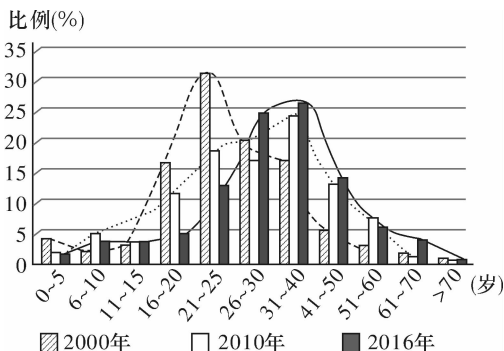
高考回眸

(2019 江苏)2019年,从安徽合肥发车,沿丝绸之路经济带发往中亚、欧洲的货运班列已突破百列。下图为“我国丝路班列出境与海上丝路出港部分线路示意图”。据此回答1~2题。



1. 与海上丝路货运方式相比,丝路班列 ()
 A. 运输时效高 B. 单次运量大
 C. 单位运价低 D. 绕行路程远
2. 合肥发往中亚、欧洲的货运班列增加将有助于安徽省 ()
 A. 完善交通网络 B. 做强能源产业
 C. 改善环境质量 D. 增加就业岗位

(2019 江苏)下图为“我国某城市不同年份各年龄段人口数量占比图”。读图,回答3~4题。

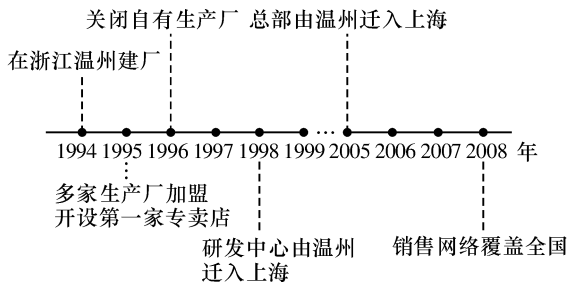


3. 与2000年相比,2016年该城市 ()
 A. 人口总数减少 B. 老龄化加剧
 C. 平均年龄减小 D. 劳动力增多
4. 影响该城市人口年龄结构变化的主要因素是 ()
 A. 自然增长 B. 医疗水平
 C. 机械增长 D. 生育观念

(2018 海南)荷兰位于欧洲西部,利用温室无土栽培方式种植花卉、蔬菜,技术先进。山东某蔬菜生产企业在荷兰投资兴建蔬菜生产基地,同样采用温室种植。据此完成 5~6 题。

5. 荷兰吸引山东蔬菜生产企业投资兴建蔬菜生产基地的优势条件是 ()
- A. 生产技术先进 B. 交通运输便捷
- C. 自然条件优越 D. 生产成本低廉
6. 山东蔬菜生产企业在荷兰兴建蔬菜生产基地的根本目的是 ()
- A. 满足国内需求 B. 拓展国际市场
- C. 提高研发水平 D. 增强国际影响

(2018 全国 II)1994 年,我国 M 公司(服装企业)在浙江温州成立,发展过程如下图所示。读图,完成 7~9 题。



7. 1996 年, M 公司关闭自有生产厂, 主要是为了 ()
- A. 提高附加值 B. 降低人工成本
- C. 缩小规模 D. 加强合作
8. M 公司依次将研发中心和总部迁入上海, 主要是因为上海 ()
- A. 基础设施好 B. 交通便利
- C. 销售市场大 D. 信息通达
9. 从发展过程看, M 公司一直致力于 ()
- A. 打造自主品牌 B. 扩大生产规模
- C. 产品款式多样 D. 增强国际影响

(2018 全国 III)油纸伞是我国非物质文化遗产,采用传统方法,全手工制作,油纸伞以竹为骨,以纸或丝绸为面,刷桐油以增强韧性并防水,但长期置于干燥环境中易变脆、开裂。近年来,油纸伞走俏国际市场。据此完成 10~11 题。

10. 与现代钢骨布面伞相比,油纸伞走俏国际市场依赖的主要优势是 ()
- A. 携带方便 B. 适用地广
- C. 文化蕴涵 D. 经久耐用
11. 下列地区中,宜作为油纸伞重点推销市场的是 ()
- A. 欧洲西部 B. 中亚
- C. 中东 D. 撒哈拉以南非洲

(2017 全国 I)德国海德堡某印刷机公司创始人及其合作者设计了轮转式印刷机,开创了现代印刷业的先河。至 1930 年,海德堡已成立了 6 家大的印刷机公司。同时,造纸、油墨和制版企业也先后在海德堡集聚。产业集聚、挑剔的国内客户以及人力成本高等因素的综合作用,不断刺激海德堡印刷机技术革新。据此完成 12~13 题。

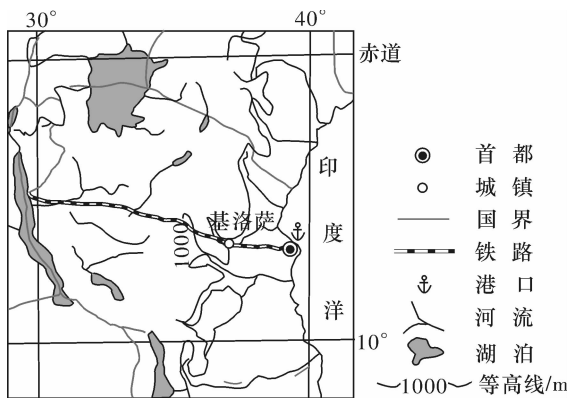
12. 造纸、油墨和制版企业先后在海德堡集聚,可以节省 ()
- A. 市场营销成本 B. 原料成本
- C. 劳动力成本 D. 设备成本

13. 海德堡印刷机在国际市场长期保持竞争优势,主要依赖于 ()
- A. 产量大 B. 价格低
- C. 款式新 D. 质量优

14. (2019 海南)阅读材料,完成下列要求。

东盟是由东南亚 10 个国家形成的经济一体化组织。2000 年以来,人口由 5 亿左右增长至现在的 6 亿以上。与此同时汽车产业快速发展,目前东盟年产汽车约 400 万辆,是全球六大汽车生产基地之一,生产的汽车除满足当地市场外,还持续扩展外销规模。指出东盟人口变化的特点,并说明人口因素对其汽车产业发展的影响。

15. (2017 全国 I)阅读图文材料,完成下列要求。
- 剑麻是一种热带经济作物,剑麻纤维韧性强,耐海水腐蚀,是制作船用缆绳、汽车内衬、光缆衬料等的上乘材料。非洲坦桑尼亚曾是世界最重要的剑麻生产国,被称为“剑麻王国”。自 1999 年,中国某公司在坦桑尼亚的基洛萨(位置见下图)附近投资兴建剑麻农场,并建设配套加工厂,所产剑麻纤维主要销往我国。该农场一期种植 1000 多公顷,雇佣当地长期和临时工超过 1000 人,预计 2020 年种植面积达 3000 公顷,年产剑麻纤维 1 万吨。该公司还帮助当地修建学校、卫生所等。



- (1) 根据剑麻生长的气候条件和用途,说明我国国内剑麻纤维供需矛盾较大的原因。
- (2) 说明剑麻收割后需要及时加工的原因。
- (3) 简述当地从中国公司兴建剑麻农场中获得的利益。

温馨提示:请完成考点限时训练(七)P171