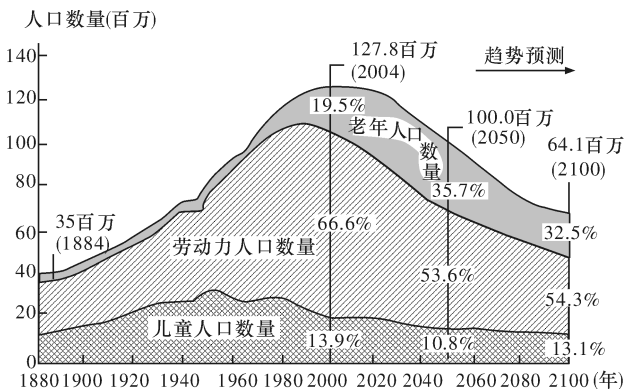


第六单元 人口与城市

考点集训(十八) 第一讲 人口增长模式、人口合理容量

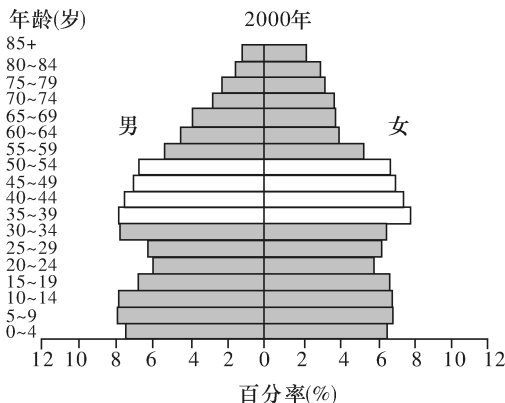
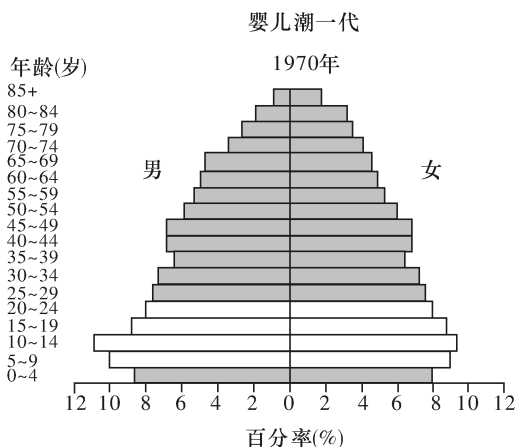
一、选择题

自2011年以来,日本人口数量出现负增长,人口总数不断下降,老龄化形势严峻,社会负担加重,但首都及附近地区人口却呈现增加趋势。现在,日本政府一方面鼓励生育,一方面准备推迟退休年龄。下图为日本人口趋势图。读图完成1~3题。



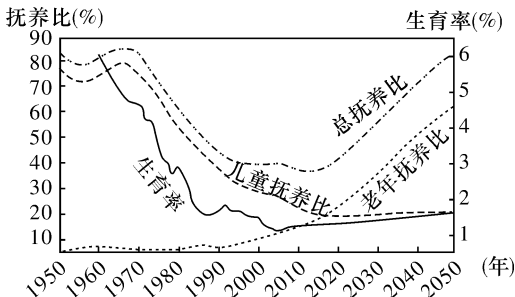
- 日本人口增速最快的时期应是
 - 1880—1920年
 - 1951—1980年
 - 1981—2010年
 - 2011年以后
- 2011年以后,首都及附近地区人口呈现增加趋势的原因是
 - 养老设施完善
 - 教育水平高
 - 环境质量优越
 - 就业机会多
- 根据预测,2050—2100年日本人口
 - 老龄化加剧
 - 儿童数量增加
 - 出生率提高
 - 劳动力增多

1946—1964年美国出生婴儿高达7600万人,这个群体被称为“婴儿潮一代”,“婴儿潮一代”对美国的政治、经济和文化有着巨大的影响。下图是1970年和2000年美国人口年龄金字塔统计图。读图回答4~5题。



- 引起“婴儿潮一代”人口增长率高的最主要原因是
 - 战后经济恢复和发展
 - 鼓励生育的人口政策
 - 实行宽松的移民政策
 - 新时期科学技术革命
- 随着“婴儿潮一代”步入中年期,美国人口增长特点转变为
 - 快速增长
 - 负增长
 - 稳定增长
 - 零增长

(18·雅礼·2)读某国历年生育率和抚养比示意图(含预测),回答6~7题。



- 若不考虑人口迁移,该国老年人口数量与儿童人口数量相等的时间大致在
 - 1960年
 - 2007年
 - 2012年
 - 2018年
- 目前,中国是世界上唯一老年人口过亿的国家,据此我国将面临的问题或解决措施是
 - 我国将面临人口老龄化和人口增长过快的双重压力
 - 老年人口绝对数量大,使养老、医疗等社会保障压力增大,特别是在城市
 - 面对“未富先老”,我国应对人口老龄化的经济实力还比较薄弱
 - 放宽计划生育的限制是解决我国老龄化问题的根本途径

截至2015年,中国单身人口达到2亿,中国第四次单身潮正面来袭。据此回答8~9题。

- 单身潮可能带来
 - 出生率增加
 - 劳动人口数增加
 - 死亡率降低
 - 老龄化趋于严重
- 2015年10月29日党的十八届五中全会允许实行普遍二孩政策,政策规定:坚持计划生育的基本国策,完善人口发展战略,全面实施一对夫妇可生育两个孩子政策,积极开展应对

答案	题号
	1
	2
	3
	4
	5
	6
	7
	8
	9
	10
	11

人口老龄化行动。根据材料,出台普遍二孩政策的意义,有利于

- ①保持合理的劳动力规模 ②延缓人口老龄化速度 ③放弃计划生育政策 ④促进人口与社会经济、资源、环境的协调和可持续发展

- A. ①②③ B. ②③④
C. ①③④ D. ①②④

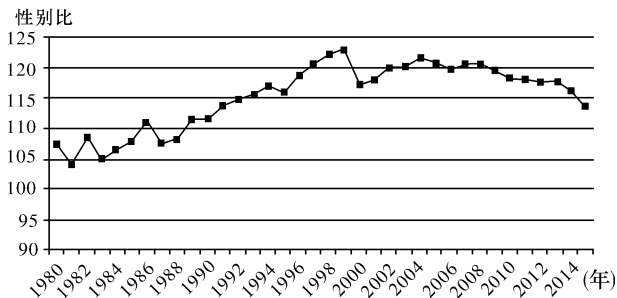
人口无序过快增长,是北京“大城市病”的重要原因,严重影响了首都核心功能的发挥。因此2016年北京市提出人口2300万的“天花板”。人口总量是否合理,取决于两个因素:其一是环境承载力;其二是经济承载力。一个城市的发展规模有多大、城市空间聚集多少人口,自然资源承载力的制约是重要因素,而城市的经济承载力则是根本因素。所谓城市经济承载力是指:在当前的技术水平和生产条件下,在确保生态环境良性循环的前提下,城市的经济资源总量对该空间内人口的基本生存和发展的支撑力。城市经济承载力最直接的体现就是该城市在一定时期内经济活动所能吸纳的就业人口和其供养的最优人口数量。据此回答10~11题。

10. 下列提高北京市环境承载力的措施中,最合理的是
A. 扩大生态用地,提高土地资源的承载力
B. 实施南水北调工程,提高水资源的环境承载力
C. 大量输入煤、铁资源,提高矿产资源的环境承载力
D. 大力植树造林,提高森林资源的环境承载力
11. 下列关于提高北京市经济人口容量的叙述,正确的是
A. 发展劳动密集型产业,增加就业岗位
B. 严格管控外来人口,引导人口向河北迁移
C. 大力发展第三产业,促进经济健康发展
D. 落实全面二孩政策,减缓老龄化趋势

二、非选择题

12. 阅读图文材料,回答下列问题。

人口的出生性别比,通常以每出生100个女性人口相对应出生的男性人口的数值来表示。国际上通常将人口出生性别比的正常范围定为102~107,超出这个范围则被视为异常。男女性别平等协调发展,是社会公正的重要体现,是家庭、社会和谐稳定的前提。性别比问题不仅关系到人口可持续发展的战略问题,也关系到构建和谐社会、建设小康社会的重大战略问题。下图为1980—2015年我国人口出生性别比变化趋势(数据来自中国人口统计年鉴)。



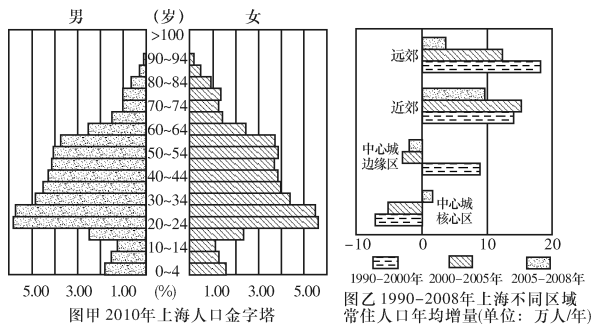
- (1) 据图归纳我国人口出生性别比变化的特征。
- (2) 分析20世纪80年代以来,我国人口出生性别比总体失衡的原因。

(3) 说出我国人口出生性别比失衡可能带来的影响。

(4) 请结合实际情况,提出缓解我国人口出生性别比失衡现状的有效对策。

13. 阅读图文材料,回答下列问题。

城市人口容量应与城市的经济发展和资源总量相适应。有人根据上海经济发展水平和水资源总量,估算出2010年、2020年和2030年上海常住人口容量(见下表)。随着上海市城市化进程的加速,2010年上海市常住人口已达2301.91万人,超过估算的人口容量。



上海市人口容量的估算表(万人)

	2010年	2020年	2030年
水资源限制的人口容量	1535.95	1705.68	1894.17
经济发展限制的人口容量	1460.99	1543.03	1596.84
综合常住人口容量	1788.5~1870	1841.5~1935	1894.5~2000

- (1) 读图甲,估算2010年上海的人口年龄构成,并判断上海的人口年龄构成特征。
- (2) 随着城市的发展,上海人口在地域分布上也有较大的变化。读图,描述1990年至2008年上海常住人口在不同区域的变化特征。
- (3) 结合影响人口容量因素的知识,从水资源和经济发展两个方面,分析上海今后提升人口容量可以采取的措施。

考点集训(十九) 第二讲 人口迁移、地域文化与人口

一、选择题

近年来,不少在城市积累了资金、习得专长的农民工,开始逆向流动、返乡创业。这类人,被媒体称为“城归”。据统计,近年来“城归”人数累计达到450万。随着党的十九大明确提出的乡村振兴战略的实施,将有更多的“城归”返乡创业,这将给家乡的社会经济发展带来不可估量的现实影响。据此完成1~3题。

- “城归”返乡创业现象出现的主要原因是
 - 城市产业已达饱和,经济效益不断下降
 - 城市生活成本过高,环境污染严重
 - 乡村土地无人耕种,大面积的撂荒
 - 国家优惠政策实施,乡村经济蓄势发展
- “城归”给乡村带来的是人口红利升级,人口红利升级指的是“城归”人员
 - 技能与素质的提升
 - 年龄构成的年轻化
 - 数量的大幅度提高
 - 性别结构的均衡化
- “城归”现象给乡村最先带来的社会效益是
 - 增加家庭收入,改善环境质量
 - 有效解决留守儿童和老龄化问题
 - 提高公共服务水平,完善基础设施
 - 促进农业规模化和专业化发展

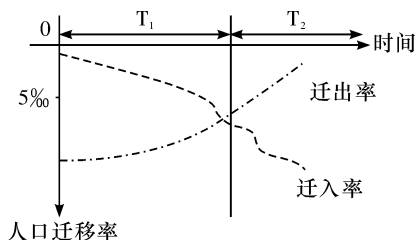
春节是中华民族最隆重的传统佳节,不管距离多远,在外的游子们都渴望回家和家人团聚,每年数以亿计的人群集中在春节期间往返于家乡和工作地点,形成了堪称“全球罕见的人口流动”的春运。读2018年与2017年全国春运旅客发送量比较表(下表)和2017年春节前后春运迁徙情况统计图(下图),回答4~5题。

年份	公路 (亿人次)	铁路(亿人次) (括号内为高铁运量)	民航 (亿人次)	水运 (亿人次)
2017	25.2	3.57(1.8)	0.59	0.44
2018(预测)	24.8	3.89(2.1)	0.65	0.46



- 下列叙述正确的是
 - 2018年比2017年春运旅客平均在途时间缩短
 - 2018年比2017年春运交通压力明显减轻
 - 2018年春运公路发送旅客数量下降与私家车保有量增加无关
 - 高铁会逐渐成为未来几年春运的最主要交通工具
- 2017年2月1日前后人口迁徙数量最多的主导因素是
 - 经济因素
 - 传统文化
 - 春运政策
 - 天气因素

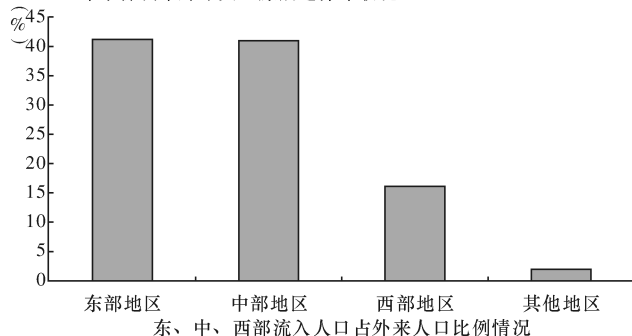
(18·一中·7)人口迁移率是指一定时期,某地区人口迁入、迁出的绝对量与该时期该地区总人口数之比。迁移增长率=迁入率-迁出率。读我国东南沿海某地区自新中国成立以来人口迁移率随时间变化示意图,完成6~7题。



- 有关 T_1 、 T_2 时期该地区人口变化的叙述,正确的是
 - T_1 时期人口自然增长缓慢
 - T_2 时期老年人口比重下降
 - T_1 时期人口总量不断增长
 - T_2 时期人口机械增长减慢
- 下列关于人口迁移对该地区地理环境影响的叙述,正确的是
 - T_1 时期人口迁移增长率为正值,就业压力不断增大
 - T_2 时期人口迁移增长率为正值,环境承载力不断下降
 - T_1 时期人口迁移增长率为负值,制约经济的发展
 - T_2 时期人口迁移增长率为负值,给社会带来沉重的压力

2017年中国最新人口流入城市排名,深圳排名第一,2011—2014年深圳市人口男性人口与女性人口性别比为117:100(性别比),深圳出生人口性别比为109:100,而全国0~14岁性别比为118:100,下图为深圳人口来源地分布图。读图回答8~9题。

2015年末深圳市外来人口原居地分布状况



- 对深圳外来人口来源地分布的分析,正确的是
 - 相对于中部和东部,经济因素对西部地区的吸引力较小
 - 空间距离是影响西部地区人口向深圳迁移的主要推力因素之一
 - 深圳对东部地区人口吸引力较强,可以推测,广州也是深圳主要人口迁出区
 - 文化差异是深圳外来人口东部、中部大于西部的主要原因
- 对材料中深圳人口性别结构合理的分析是
 - 为调节性别结构平衡,深圳政府应增强第二产业中对男性人口的吸引力
 - 深圳外来人口数量男性少于女性
 - 深圳外来人口数量男性多于女性
 - 深圳本地人口性别比优于全国平均水平,深圳人口性别结构合理

重男轻女指数是指希望生育男孩的母亲人数与希望生育女孩的母亲人数的比例。下表是联合国人口机构某年公布的部分国家的重男轻女指数表。读表完成10~11题。

国家	指数	国家	指数
巴基斯坦	4.9	肯尼亚	1.1
尼泊尔	4.0	哥伦比亚	1.0
韩国	3.3	菲律宾	0.9
泰国	1.4	委内瑞拉	0.9

10. 人口生育意愿与中国传统文化相似的国家是

- A. 菲律宾、泰国、尼泊尔
- B. 巴基斯坦、尼泊尔、韩国
- C. 哥伦比亚、肯尼亚、委内瑞拉
- D. 韩国、泰国、菲律宾

11. 下列有关叙述正确的是

- A. 发达国家受基督教的影响,人们没有性别偏好
- B. 中国的儒家文化重视子女质量和注重自我发展
- C. “男孩偏好”的传统与“稻米文化”毫不相关
- D. 并非所有发展中国家都渴望生育男孩

二、非选择题

12. 阅读材料和表,结合所学知识回答下列问题。

材料一 下表为新生代农民工与第一代农民工的特征比较。

比较特征		第一代农民工	新生代农民工
个人情况	文化特征、家庭背景	小学和初中文化为主,多子女家庭	初中及以上为主,独生子女或两孩家庭
就业情况	打工主要目的、工作期望、劳动供给决策	为家庭,求生存,能挣到比种田多的钱,即可绝对收入比较	为自己,追求生活质量,向往体面或接近市民的工作,相对剥削感较弱
城市适应性	对城市的认同感、与外界的联系、生活方式	较弱,多以同乡为主要交往对象,以口信、书信为主,信息量少,频率低,速度慢,与传统农民接近	较强,向往城市生活,渴望融入城市,以电话、网络为主,信息量大。频率高,速度快,与现代市民接近

材料二 据统计,2000年上海外来总人口排名前10位中,安徽排名第一,占外来人口总量的32.2%,但2010年安徽流入上海的人口所占比重有所下降,占上海外来总人口的29%。

材料三 据《新闻纵横》报道,到2014年10月,“长三角”不足21万平方千米的土地上,十年间,人口从8000万涨到了1.2亿。

(1)据表分析新生代农民工与第一代农民工进城务工首要动因的异同点。

(2)简要分析“长三角”外来人口增加的主要原因。

(3)分析2010年上海外来人口中安徽人口所占比重下降的原因。

13. 阅读材料,回答下列问题。

材料一 现在我国人口已13亿多,全球人口超过70亿。

材料二 目前,我国人口科学文化素质从总体上说还远远落后于发达国家,文盲率为6.72%,农村小学教育质量还比较低,初中毕业生能进入高中的只有30%,而高中毕业生进入各类大学的也只有30%左右。我国的大学入学率只有美国和加拿大的1/200,平均每1万人口中科学家、工程师和技术人员的数量,日本是中国的530倍,德国是中国的236倍。尽管我国拥有一批世界上优秀的科学家、文学家、艺术家等,但数量极少,人口总体的文化程度(12岁及以上人口)1964年为2.3年,1982年为4.6年,1987年为5.1年,1990年上升为5.5年,只接近小学水平。

(1)上述材料说明了我国人口面临着什么问题?这些问题的形成与我国的传统文化有无关系?

(2)你认为目前我国民众的人口观、婚育观和传统观念相比有了哪些变化?