

长郡中学高三停课不停学阶段性检测文综试题（三）

考试时间：2020年3月8日 上午9：00—11:30

本卷包含必答题和选答题两部分

必答题部分

一、选择题：本题共35小题，每小题4分，共140分。在每小题给出的四个选项中，有一项是符合题目要求的。

享誉世界的某箱包品牌于1910年创立于美国科罗拉多州的丹佛市，该企业拥有一千多项发明专利，其产品上市前需经“六大特殊测试”(翻滚、坠落、轮子、把手、拉链、锁头)。20世纪30年代，该企业首次在杂志上刊登了广告；20世纪50年代，推出以金属镁与ABS聚合物为原料的崭新的轻型产品；20世纪70年代，研发设有轮子的旅行箱，成为全球性跨国企业；2006年，该企业将总部迁往伦敦，同时设立了全球创意中心。据此完成1~2题。

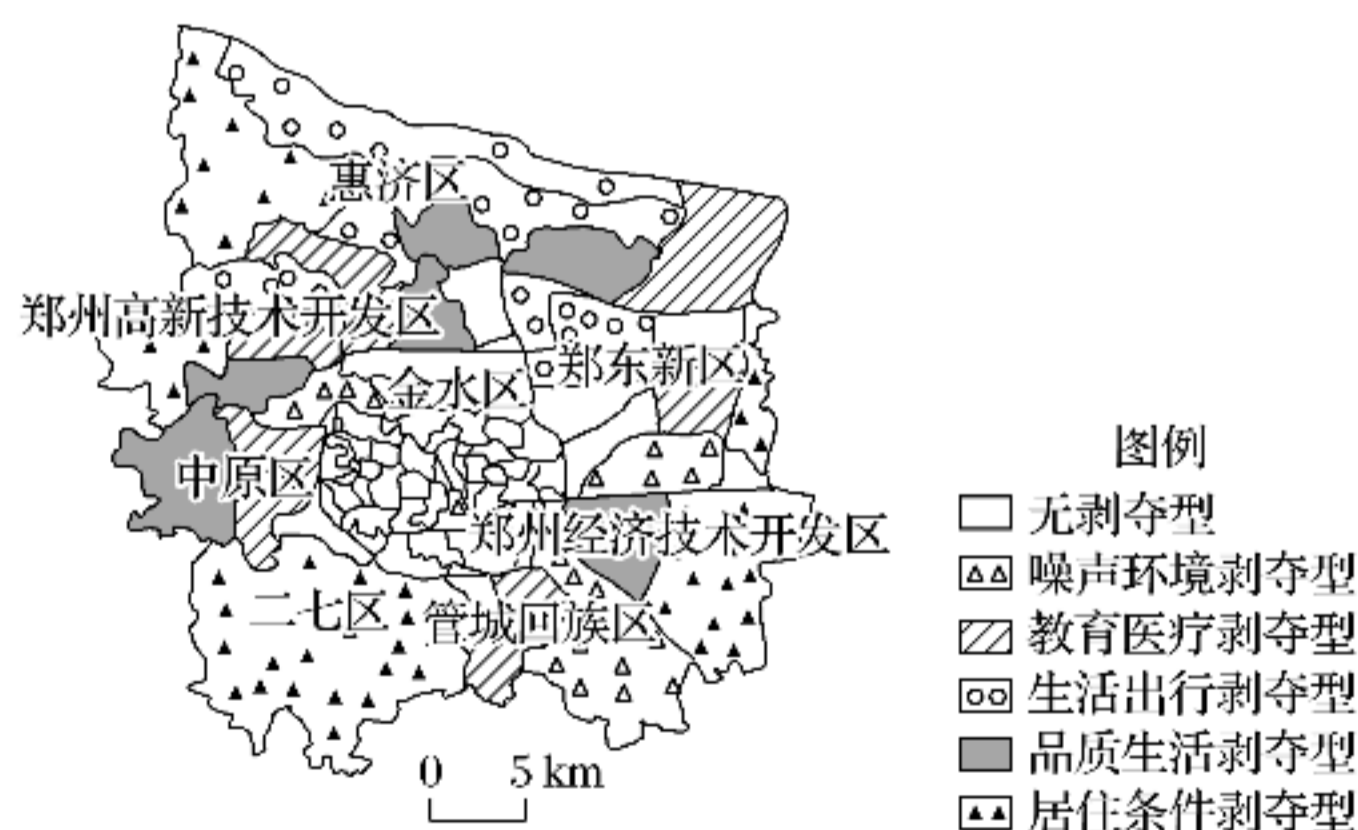
1.20世纪50年代该企业推出新材料轻型旅行箱的主要原因是()

- A.旅行方式变革
- B.经济危机影响
- C.原材料短缺
- D.消费市场萎缩

2.该企业将总部由丹佛迁往伦敦的主要原因是伦敦()

- A.消费市场广阔
- B.纺织业基础雄厚
- C.关税政策优惠
- D.时尚潮流影响力强

随着我国城市化的快速推进，城市新区建设和旧城改造衍生出一系列城市剥夺现象，比如，医疗教育设施等资源空间配置的不合理；生活服务设施空间发展的不均衡；快速交通建设产生的局部噪声干扰等。鉴于此，将城市居住环境剥夺现象定义为城市化过程中由于政府政策和市场排斥的作用，某些区位(如居住小区)对城市绿地空间、公共服务设施、生活和商业设施等具有较低的可获得性，以致感受到针对其群体的高度歧视，并产生强烈的不公平感和失落感。据此完成3~5题。



3.城市居住环境剥夺出现的直接原因是()

- A.生产力水平低
- B.人口城市化速度过快
- C.逆城市化明显
- D.城市劳动力不足

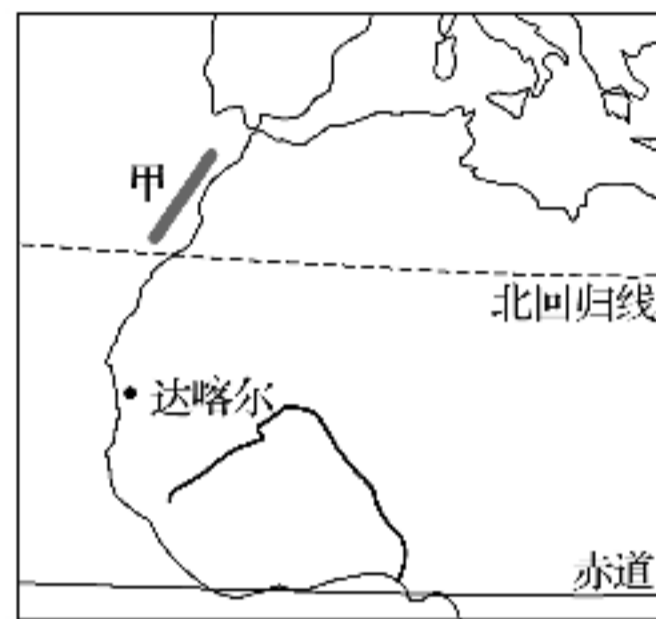
4.郑州各项设施建设最完善的城区是()

- A.二七区
- B.管城回族区
- C.惠济区
- D.金水区

5.对于管城回族区东部而言,应()

- A.限制人员通行
- B.加强隔离墙建设
- C.禁止工程建设
- D.减少工业生产

非洲的玫瑰湖位于达喀尔市偏北方向30多千米处(如下图所示),无水源与外界相通。每年的某一季节水中的微生物和大量外来的矿物质在充足阳光的作用下发生反应,湖面呈现如同绸缎一般的粉色,玫瑰湖的名称由此而来。据此完成6~8题。



非洲局部示意图

6.玫瑰湖呈现出绸缎般的粉色时,北京所处的季节是()

- A.春季
- B.夏季
- C.秋季
- D.冬季

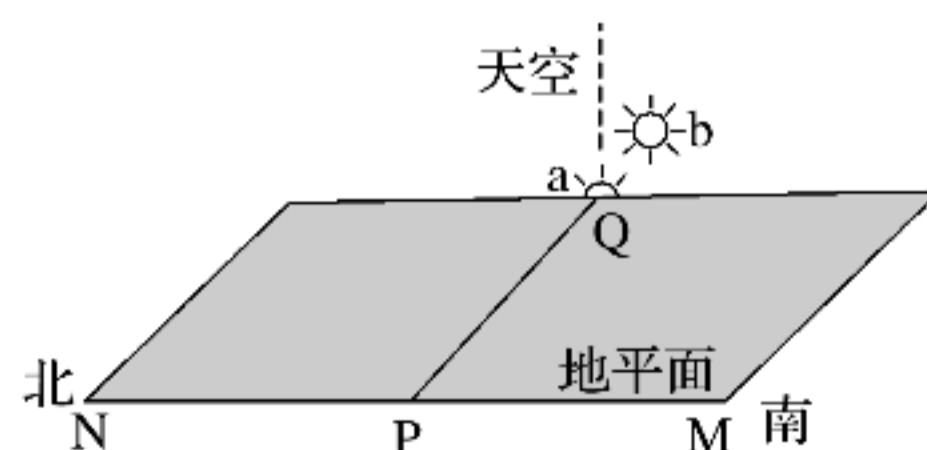
7.以下关于玫瑰湖形成原因的叙述,正确的是()

- A.地处高原,气候凉爽适宜藻类生长
- B.雨季时水分充足,微生物繁殖较多
- C.气压带、风带北移,光照充足的结果
- D.受信风影响,从沙漠带来矿物质多

8.以下关于玫瑰湖北侧海域洋流甲的叙述,正确的是()

- A.属于以副极地为中心的大洋环流
- B.所流经海域等温线向北凸出
- C.对沿岸环境有增温增湿的作用
- D.所流经海域易出现多雾天气

我国某地一同学每天早晨在上学路上,习惯性地观察天空中的太阳,下图示意该同学在两个不同日期的7:30(北京时间)经过P点时,所看到的太阳在天空中的a、b位置,图中M、N代表南北方向,PQ垂直于MN。据此完成9~11题。



9.该同学所处的省区可能是()

- A.甘肃
- B.上海市
- C.新疆
- D.重庆市

10.该同学看到太阳位于a位置上升到b位置期间可能是()

- A.6月到7月
B.9月到10月
C.2月到3月
D.3月到4月

11.如果该同学看到太阳又由b位置降到a位置时，当地()

- A.昼短夜长
B.昼渐短
C.正午影子渐短
D.日出东南

12.根据马克思的劳动价值理论，为应对中美贸易摩擦所带来的冲击，某企业努力改进生产技术，提高劳动生产率，在其他条件不变的情况下，这一举措给该企业商品带来变化的相关判断如下表所示。其中正确的是

个别劳动时间	社会必要劳动时间	单位商品价值量	商品价值总量
不变	缩短	降低	增加
①	②	③	④

- A.① B.② C.③ D.④

13.某公司在保障用户信息数据安全的前提下，开发跨场景拓展应用的个性化智能推荐引擎模型——Absolute-AI，从而满足用户自身的信息诉求，改善用户体验。这表明该公司

- ①转变经营目标，提高经营效益
②依靠技术优势，增强竞争能力
③把握客户需求，优化服务水平
④实现行业领先，引领产业升级

- A.①② B.②③ C.①④ D.③④

14.下表为2019年某省农村家庭收入结构（单位：元）

	平均	按人均纯收入等级分组				
		低收入户	次低收入户	中等收入户	次高收入户	高收入户
人均收入	13071	3687	8111	11582	15814	28405
人均工资性收入	6878	2309	4557	7089	9754	11439
人均家庭经营收入	4872	683	2727	3449	4921	14281
人均财产性收入	553	100	152	304	438	1510

人均转移性收入	767	595	676	740	701	1174
---------	-----	-----	-----	-----	-----	------

对上表信息解读正确的有

- ①从总体上说，农民种地不如打工获得的收入多
- ②推动农村土地经营权流转可以缩小经营性收入差距
- ③财产越多带来财产性收入越多的马太效应使富者越富
- ④国家通过转移支付缩小了各收入等级组间的收入差距

A.①② B.①③ C.②④ D.③④

15.把财富比喻成一锅粥，社会群体中的每人每天轮流值日分粥，但是分粥者最后一个领粥，结果每次每个人碗里的粥都是一样多，就像用科学仪器量过的一样。这一“分粥模式”给我们的启示是

- A.效率是实现公平的物质前提
- B.公平是提高经济效率的保证
- C.社会公平依赖合理的制度设计
- D.大力发展生产力增加社会财富

16.打赢脱贫攻坚战、全面建成小康社会离不开坚强的政治保障。净化与重塑农村政治生态是实现基层有效治理的重要内容，有助于解决农村政治生态不平衡、不协调的问题。京郊某村针对政治生态方面的问题，着力加强基层民主监督制度建设，下列做法合理的有

- ①进一步健全和完善村务公开制度
- ②加强村民代表会议的监督功能
- ③拓宽村民对公共决策的参与途径
- ④突出乡镇基层政府的主体作用

A.①② B.①④ C.②③ D.③④

17.家庭、邻里间的纠纷关系复杂，化解难度较大。L市组建了一支由人大代表、政协委员、法官、律师、各行业专业人士、居民代表等组成的调解员队伍，深入基层巧断“家务事”，该市的刑事、治安、民商立案率比上年同期分别下降了49.7%、22%、10%。这一做法的工作特色是

- A.转变工作作风，坚持群众路线，提高行政效率
- B.动员社会力量，参与社会治理，节约司法资源

- C.加强司法队伍建设, 推进司法队伍正规化、专业化
- D.发挥了基层群众自治组织在解决基层矛盾纠纷中的作用

18. 下列关于我国国家机关的表述中正确的是

- A.国家主席是我国的国家元首, 由全国人大选举产生, 根据全国人大及其常委会的决定行使职权, 是我国最高政治领导力量
- B.人民法院是我国审判机关, 基本任务是审判各类案件, 依法独立行使审判权, 不受行政机关、社会团体和个人干涉
- C.监察委员会围绕国家公职人员的工作态度是否端正、作风是否优良、方法是否得当等问题, 履行监督、调查、并提起公诉的职责
- D.人民政协是爱国统一战线组织, 是国家治理体系的重要组成部分, 履行政治协商、民主监督、参政议政的职能

19. 一个地方友不友好, 舒适与否, 不仅在于其硬件环境、风俗美食等, 还在于语言的通达性。20年来, 我国普通话推广取得了骄人的成绩, 产生了深远的意义。推广普通话主要是基于

- ①减少文化交流障碍, 提高文化传播效率
- ②增进国家认同, 构筑起中华民族命运共同体
- ③普通话历史悠久、源远流长, 具有深厚文化底蕴
- ④普通话是先进文化的重要内容, 承载着正确的价值观

A.①② B.①③ C.②④ D.③④

20. 我国东汉哲学家王充认为: “天下无独燃之火, 世间安得有无体独知之精。”下列观点中与王充的哲学观点相悖的是

- ①原子是世界的共同基础
- ②人之所不学而能者, 其良能也
- ③世界的发展是“绝对精神”的自我运动
- ④凡可状皆有也; 凡有皆象也; 凡象皆气也

A.①③ B.①④ C.②③ D.②④

21. 一个人的阅读史, 即是他的心灵发育史。读书是一种享受, 更是自我修行的一种方式, 我们通过阅读了解到世界的变换, 文化的昌荣, 历史的演变。阅读是一个

- ①主体对文本进行直接现实性改造的过程
- ②不断排除主观因素进而把握文本原意的过程

- ③主体获取文化信息，不断实现社会化的过程
- ④主观对文本进行加工、再创造的扬弃性反映过程

A.①② B.①④ C.②③ D.③④

22.掌握纷繁复杂的朝代更替以及它们的关系，对于初学中国历史的人来讲不是一件容易事，他们往往把背诵中国历史朝代歌作为学习的起点。

夏商与西周，东周分两段。春秋和战国，一统秦两汉。三分魏楚吴，二晋前后延。南北朝并立，隋唐五代传。宋元明清后，皇朝至此完。

历史朝代歌之所以成为辅助学习的有效工具是因为它

- A.建立起了朝代之间客观的、必然的联系
- B.揭示了中国历史发展规律、道路和趋势
- C.使人们对历史的碎片化记忆更加系统有序
- D.通过重构朝代之间的联系使历史轨迹更加清晰

23.中国拥有五千年的悠久历史和文明，“和而不同”“和合共生”是中华民族对不同文明相处之道的独到理解。我们要尊重文明多样性，推动不同文明交流对话、和平共处、和谐共生，不能唯我独尊、贬低其他文明和民族。这体现了

- ①矛盾双方具有同一性，双方相互依赖、相互贯通
- ②同一事物不同阶段、不同事物的矛盾都各有特点
- ③矛盾双方既对立又统一，推动事物的变化和发展
- ④矛盾的主次方面相互依赖、相互影响、相互包含

A.①② B.①③ C.②④ D.③④

24. 1900年，学者章太炎提议学界编写新体例的《中国通史》，对于通史，他认为要达到一个境界，“静以臧往，动以知来”。这一观念

- A. 深受唯物史观影响
- B. 强调历史学的现实意义
- C. 与传统史学观念截然不同
- D. 把中国的历史视为世界史的一部分

25.汉武帝建元六年时，因连续有两座皇家祖庙发生意外火灾，儒生董仲舒上书朝廷，要求在宗室贵族和皇帝近臣中找出几个为非作歹的杀头示众，以安天下民心。这一材料说明西

汉儒生

- A. 继承了孔子的人文主义精神
- B. 发展了孟子的民本思想
- C. 以宗教迷信来维护皇权
- D. 主张对君权进行限制

26. 学者王家范说，小农经济以一家一户作为最大、也是最小的生产单元，物资再生产与人类自身的再生产合而为一，使得这种生产结构系列简单，具有顽强的自生产自组织的再生机制。下列各项对此理解正确的是

- A. 小农经济因其规模小而十分脆弱
- B. 自给自足的小农经济很难发展为复杂的经济机制
- C. 在落后的生产力条件下小农经济的存在有其合理性
- D. 小农经济有利于物资和人口快速增长

27. 1935年，南京国民政府废止银本位货币制度，统一发行称为法币的纸币，这一举措

- A. 推动民族资本主义的发展
- B. 解决了国民政府的财政危机
- C. 制止了白银外流
- D. 为抗日战争做了充分的金融准备

28. 学者李剑农在论及中共成立时说，“受了俄国革命的刺激，思想上起了变化，一般人被国内的军阀和国外帝国主义压迫得不堪；于是新文化运动的急进分子，想把俄国的共产党作为导师，动员大多数尚没有阶级意识的无产者一齐联合起来，造成无产阶级和军阀的决斗，和帝国主义的决斗。”下列各项理解正确的是

- A. 当时中国的无产阶级尚未产生阶级意识
- B. 反帝反封建的浪潮是中共成立的重要背景
- C. 共产党的成立推动了新文化运动走向急进
- D. 先进的中国人已找到了革命的正确道路

29. 侵华日军原计划延北平和武汉之间的平汉铁路南下，在华北平原重创中国军队，把中国版图纵向切开，然后从武汉向东，把中国军队赶下海。而某场战役发生后，日军主力大举调往东南，开始在河网密布、丘陵纵横的东南地区作战。这场战役是

- A. 淞沪会战
- B. 徐州会战
- C. 南京保卫战
- D. 太原会战

30. 1962年，中国农村开始试行“三自一包”政策，“三自”是指自留地、自负盈亏、自由市场，“一包”是指农民可以承包集体土地经营。下列各项对“三自一包”认识正确的是

- A. “三自一包”是中共中央调整农村政策的产物
- B. “三自一包”彻底终结了大跃进时期的左倾错误
- C. “三自一包”启迪了改革开放时期市场经济体制的建立

D. “三自一包”是国民经济恢复时期的重要政策

31. 克里斯提尼执政时期，为了防止社会威望极高的人威胁城邦的民主，设立了陶片放逐法。公民可以在陶片上写上不受欢迎的人的名字进行投票，得票数超过6000的人将被放逐十年。下列对陶片放逐法评价正确的是

- A. 保障了城邦的长治久安
- B. 有利于维护大多数人的利益
- C. 体现了多数对少数的暴政
- D. 是三权分立思想的源头

32. 按照传统民主制的原则，国家主权属于人民，代表人民的议会应是最高权力中心。但根据美国1787年宪法，代表人民意志的国会提案，却可以被总统和最高法院否决。下列各项对美国宪法这一规定理解最为准确的是

- A. 美国的民主政治实质上是虚伪的“假共和”
- B. 美国政治高度重视法治的原则
- C. 美国通过权力制衡来防止民主权力被滥用
- D. 美国1787年宪法存在时代局限

33. 下图为1640年至1688年英国革命中亲国王阵营和反国王阵营的社会成分示意图。对此解读正确的是，在英国



- A. 两大阵营没有重大利益分歧
- B. 宗教改革是社会分裂的根源
- C. 革命后渐进式改良成为可能
- D. 阶层是区分政治阵营的依据

34. 爱因斯坦在1905年提出光子假设，成功解释了光电效应，在此基础上，科学家们认识到光的波粒二象性，即光既具有波的特性又有粒子的特性。爱因斯坦因此获得了1921年诺贝尔物理学奖。光子假设属于下列哪一个领域的科学成果

- A. 量子理论
- B. 狭义相对论

C. 广义相对论

D. 经典力学

35. 某一时期，西方经济学界流行一种理论，如果国家要干预经济，应该由银行家而非财政部长来干预。下列哪一项符合这一理论

A. 19世纪90年代的法国

B. 20世纪80年代的英国

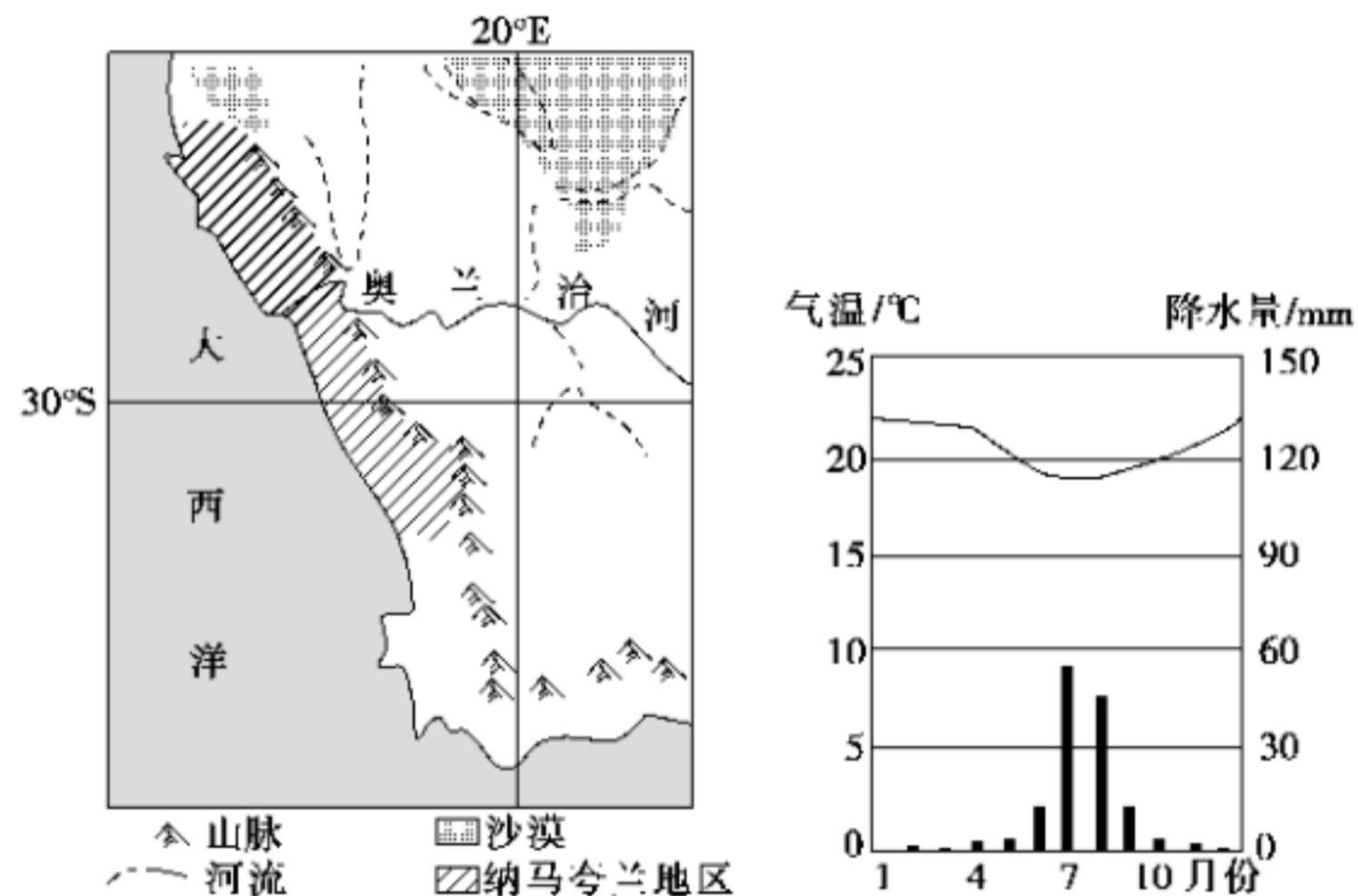
C. 20世纪30年代的美国

D. 20世纪60年代的德国

二、非选择题：共160分。第36~42题为必考题，每个试题考生都必须作答。第43~47题为选考题，考生根据要求作答。

36. 阅读图文材料，完成下列要求。(22分)

多肉植物通常生活在气温偏高，降水量少且有明显干湿季交替的地方，有少量雾气和露水也可满足其生存需要。多肉植物叶小、肉厚，非洲西南部的纳马夸兰地区夏季多雾、冬雨较多，使多肉植物疯狂繁殖，其多肉植物出口量已位居世界前列。纳马夸兰沙漠有着5 000万年的历史，国际生态保护组织认可纳马夸兰沙漠是地球上唯一的生物多样性干旱区，区域内有3 500多种多肉植物，占全球多肉植物种类的10%，其中1 000多种是这里独有的。下图为纳马夸兰周边区域和纳马夸兰气候资料图。



(1) 分析纳马夸兰南部地区适合多肉植物生存的气候条件。(8分)

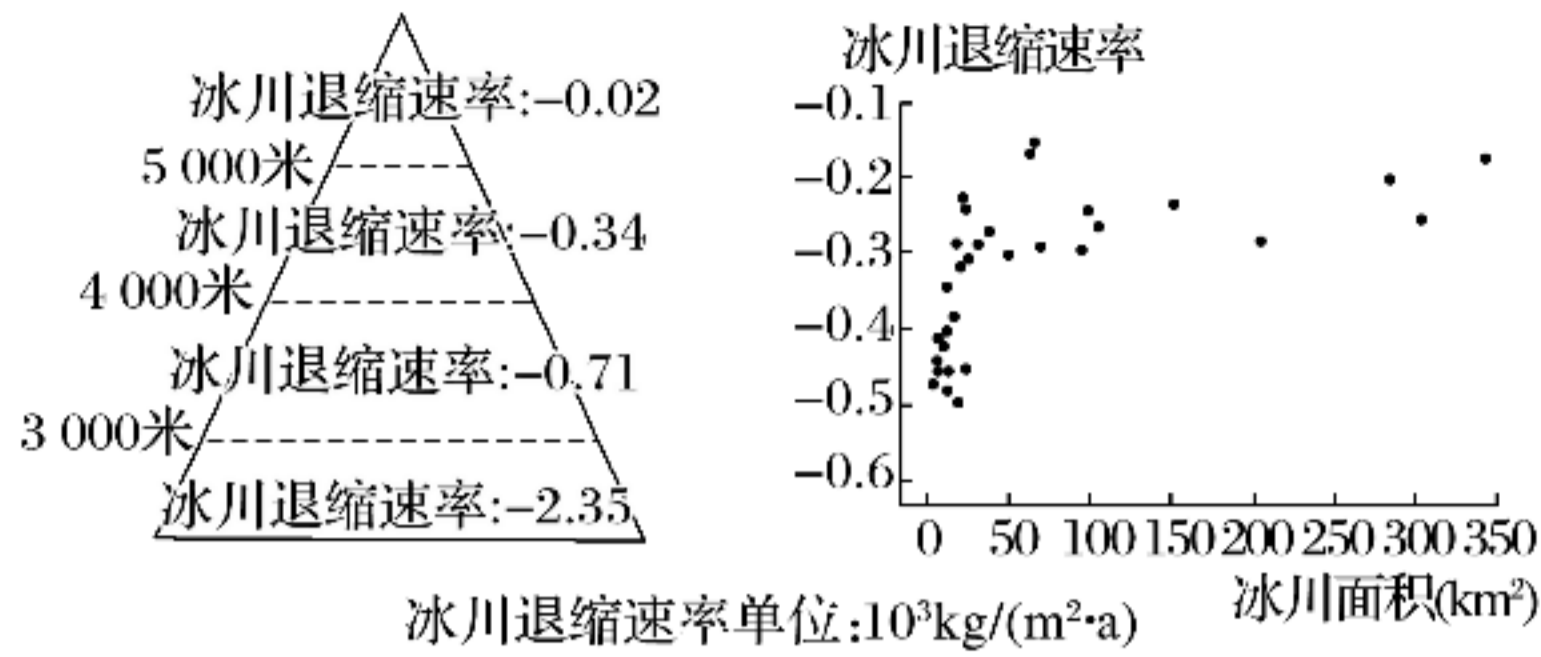
(2) 从生物进化和人类活动角度说明纳马夸兰沙漠多肉植物种类众多的原因。(6分)

(3) 分析纳马夸兰多肉植物出口量位居世界前列的原因。(8分)

37. 阅读图文资料，完成下列要求。(24分)

高海拔地区是气候变化的敏感区域。地处亚欧大陆内部的天山山地冰川广泛发育，上万条面积大小不一的冰川为周边地区的人类活动提供了水资源保障。下图为近50年来天山不同海拔及不

同面积冰川的变化统计。



- (1)据图，归纳天山冰川变化的总体特征。(6分)
- (2)简析天山冰川出现退缩的气候原因。(6分)
- (3)推测天山冰川消融导致原冰川覆盖区域气温的变化趋势并说明原因。(6分)
- (4)有人认为天山冰川退缩会增加当地河流的径流量，你是否赞同，并说明理由。(6分)

38.阅读材料，完成下列要求。(14分)

中国汽车工业经历了建国三十年从无到有的起步阶段和在改革开放四十年里成长壮大阶段。改革开放前，中国汽车产品资源匮乏、品种单一。1983年，北京汽车制造厂和美国汽车公司合资成立了“北京吉普”。自此，以“师夷长技”为目标的合资模式在中国开启。1994年，国务院印发《汽车工业产业政策》，规定汽车生产领域中外合资、合作企业的中方所占股份比例不得低于50%。八九十年代，上汽通用、上汽大众、广州标致等合资企业相继成立，捷达、桑塔纳、富康、雅阁、帕萨特等合资品牌车型开始生产并进入市场。如今，我国汽车年产销规模已经突破2800万辆，连续多年蝉联全球第一。虽然合资品牌依旧是中国汽车市场的中流砥柱，但市场份额不断下降，自主品牌和民营品牌比重不断提升。未来5年，我国汽车行业将全部取消股比限制，不得超过50%的外资股比红线将退出历史舞台。特斯拉已成为进入中国的第一家外资独资汽车品牌，是上海引进的最大的外资制造业项目，规划年生产50万辆纯电动汽车。

汽车行业的外资股比红线，从设置到取消，国家分别基于哪些考略？运用经济学知识加以分析。(14分)

39.阅读材料，完成下列要求。(12分)

为进一步提高政府治理能力和制度建设，A省政府创新审批服务体制机制，构建了政务服务实体大厅、网上平台、管理机构“三位一体”的省级服务管理体系：优化提升政务服

务大厅“一站式”功能，将以前需多部门联合审批的事项进行整合，实现企业、群众办事“最多跑一次”；以省政务服务大厅为引领，不断推进市、县政务服务中心和乡镇便民服务站、村级代办点审批服务标准化和规范化建设，最大限度将审批服务向基层延伸，实现个人事项就近能办、多点可办、少跑快办；开发建设“互联网+监管”平台，审批部门可将审批信息通过该平台同步推送到相关监管部门，监管部门也能将监管信息实时反馈给审批部门，实现审批与监管信息共享。

结合材料，运用政治生活知识，说明A省政府创新审批服务体制机制对政府自身建设的意义。（12分）

40. 阅读材料，完成下列要求。（26分）

新时代，我们党要团结带领人民实现“两个一百年”奋斗目标、实现中华民族伟大复兴的中国梦，关键在于打造一支政治底色亮、干事动力足、素质本领强、规矩意识好的高素质干部队伍。特别是要重视培养选拔优秀年轻干部，这关乎党的命运国家的命运、民族的命运、人民的福祉，是百年大计。人格是一个人精神修养的集中体现。习近平总书记强调，光明磊落、坦荡无私，是共产党人的光辉品格，也是干部应该锤炼的品质修养。要坚守精神追求，见贤思齐，见不贤而内自省，处理好公和私、义和利、是和非、正和邪、苦和乐的关系。要立志做大事，不要立志做大官，保持平和心态，看淡个人进退得失，心无旁骛努力工作，为党和人民做事政治属性是我们党作为马克思主义政党的根本属性。习近平总书记反复强调，各级干部特别是领导干部要善于从政治上看问题，站稳立场、把准方向，善于从政治上谋划、部署、推动工作。要尊重人民主体地位，尊重人民首创精神，坚持工作重心下移，深入实际、深入基层、深入群众，拜人民为师，广泛听取人民群众的真知灼见，并自觉运用于治理实践。要严格执行民主集中制，在守纪律、讲规矩上作表率，自觉做政治上的明白人、老实人，绝不做两面派、两面人。

（1）有人说：“干部培养与成长，主要就是锤炼良好的品德修养。”运用文化生活知识对此观点加以评析。（12分）

（2）各级干部特别是领导干部在政治上要站稳立场、把准方向，工作中要尊重人民主体地位。结合材料并运用历史唯物主义的知识加以说明。（10分）

（3）请你就如何才能成为一位优秀年轻干部提出两条合理化建议。（4分）

41. 阅读材料，完成下列要求。（25分）

材料一 明嘉靖十九年至明末，是白银货币化在国家与民间社会极大扩展后，走向世界的阶段。明代白银货币化最重要的展开方式是赋役折银。贵金属货币流通、循环，使得市场前所未有地活跃起来。社会产生了巨大的白银需求，这种社会内部的巨大需求，推动中国的时常极大扩展，超出国界，走向了世界。事实并非如既往所认识的，是西方东来导致了中国被动地与世界衔接起来。中国巨大的日益增长的白银需求，求远大于供，白银价值增大，向海外的寻求成为必然，私人海外贸易蓬勃兴起。中国海外贸易的开展，直接刺激了日本银矿的发现和开发；与此同时，西方葡萄牙人东来，也几乎立即发现了需要白银换取中国商品的事实。西班牙扩张到亚洲以后，也几乎立即发现了需要白银换取中国商品的事实，紧接着就出现了美洲银矿的疯狂开采和运输。白银货币的扩展，官可以买得，学可以进得，徭役可以代得，有了罪过也可以通过纳银顶罪。银子的价值远远超过了陈腐的本末说教，社会风尚焉得不大改？

——万明《明代白银货币化的再认识》

材料二 英国颁布《航海条令》，法国也颁布了相似法令，禁止荷兰与英法的殖民地进行贸易。贸易保护政策，损害了荷兰的利益，使荷兰经济丧失了活力。海外商业利益的减少和国内产业的低迷，迫使荷兰商业资本家将储蓄投资到英国，荷兰的商业资本推动了英国的产业发展。为了商业利益，英荷爆发了战争。发达的产业为英军注入强大动力。1694年，英格兰银行成立，货币政策实现了现代化，稳健的公共财政体系，为英国提供了充裕的军费。而与法国、荷兰、西班牙等国相比，革命和拿破仑战争给英国造成的损失微不足道。

——麦迪森《世界经济千年史》

(1) 根据材料一，指出作者对于明代的国际贸易有什么与传统认知不同的新观点？结合所学，分析明代白银货币化的历史作用。(10分)

(2) 根据材料二，结合所学知识，分析英国超越荷兰的原因。(6分)

(3) 根据材料，结合所学，分析英国能够在完成近代化而明清中国不能的原因。(9分)

42. 阅读材料，完成下列要求。(12分)

材料 如果深入观察中国传统社会的国家整合体制，“大一统”的成功常常被看做历史的奇迹。但仔细观察，可以发现两种极端矛盾的景象，一方面是权力高度集中于中央，一切号令出自京城中的皇宫，个人、地方均无独立意志，缺乏积极性；另一方面国家行政管理实际只到县衙一级，加上幅员辽阔，鞭长莫及，发展参差不齐，情况千差万别，中央对地方的有效监控程度，总体水平却远逊于欧洲君主国。民间的社会生活，社会经济（除了赋役

征收），均按当地的自然状态运行，上面无意也无力管（除非造反）。总之，统一的坚壳，内部却包含着许多松松垮垮，多元含混的板块。

——王家范《中国历史通论》

评析材料中的观点（可以反对也可以支持，也可以自立论点），得出结论。（要求：持论有据，论证充分，表达清楚）

II选答题部分

请考生在第 43、44二道地理题中任选一题做答，如果多做，则按所做的第一题计分。做答时用2B铅笔在答题卷上把所选题目的题号涂黑。

43. [地理——选修3:旅游地理](10分)

阅读材料，回答问题。

兴凯湖是位于黑龙江东南的中俄界湖，每年12月封冻，次年4月下旬解冻，地质上是构造湖。兴凯湖区是满族“龙兴”之地，20世纪中期形成了“北大荒文化”。时至今日，湖区恢复了较为原始的自然生态环境，湖内鱼类资源丰富；环湖湿地广袤，烟波浩渺。由于地处东北亚候鸟大通道，每年4月候鸟过往高峰期，成为摄影人心中的理想国及影视剧外景拍摄基地。



兴凯湖景观

(1)请从景观欣赏角度分析说明兴凯湖地区最好的出游时机。（6分）

(2)列举兴凯湖地区的旅游景观特征。（4分）

44. [地理——选修6:环境保护](10分)

阅读材料，完成下列要求。

2018年8月，我国首次发现非洲猪瘟，虽然非洲猪瘟不感染人，但是对猪的致病性强，致死率高，发病范围广，引起了人们对养猪场环境保护的关注。养猪场产生的猪粪是产生环境问题的重要原因之一。

(1)简述养猪场粪便产生的主要环境问题。（6分）

(2)提出对养猪场粪便的处理建议。（4分）

请考生在第 45、46、47三道历史题中任选一题做答，如果多做，则按所做的第一题计分。做答时用2B铅笔在答题卷上把所选题目的题号涂黑。

45. (15分) 【历史选修1: 历史上重大改革回眸】

材料 明中叶以来, 官僚集团的贪污腐败和效率低下问题日益严重。内阁首辅张居正“勇于任事”, 大刀阔斧地发动了一场改革运动。他于万历元年创立了被称为“考成法”的监督机制。考成法规定, 凡六部、都察院奉旨办理或转行其他衙门办理的事情, 都要根据距离的远近和事情的缓急程度规定一个处理期限, 记录在册, 一册送到相应的科注销, 一册送到内阁以备查考, 并规定了由内阁核查六科、六科核查部院、部院核查抚按的严密监督程序。经过张居正的大力整顿, 官僚队伍的素质和官僚机构的效率都有很大程度提升, 为进一步解决财政困难奠定了基础。

- (1) 根据材料, 分析张居正改革实施的背景。(9分)
- (2) 结合所学知识, 分析张居正的“考成法”所其历史作用。(6分)

46. (15分) 【历史选修3: 20世纪的战争与和平】

材料 因为俄国是英国的一个假象同盟国, 若是能够首先加以毁灭, 则英国所留下来的唯一靠山, 就只剩下了美国一国了。而美国是否会继续支援英国, 也就会发生疑问了。因此德国人决定迅速击败俄国。不列颠现在所面临的最大的危险, 既不是德国人的直接攻击, 也不是其间接路线; 但是只有一个会战, 那就是美元之战, 英国正面临着战略性破产, 因为没有美元来购买它的粮食、军火和船只。除非它能解决这个问题, 否则就只好和德国谈判了。一九四一年三月八日, 美国参议院以六十票对三十一票, 通过了租界法案。这个法案使美国可以加惠于世界上任何国家, 制造和采购一切军需品, 任意把一切与防御有关的物品加以出售、转让、交换和租借。这个法案使美国总统可以在地球上任何角落里参与战争, 宣战或不宣战都并无区别。

——富勒《西洋世界军事史》

- (1) 根据材料, 结合所学, 分析纳粹德国仓促进攻苏联的原因。(9分)
- (2) 根据所学, 分析《租界法案》的历史作用。(6分)

47. (15分) 【历史选修4: 中外历史人物评说】

材料 孟泰(1898—1967年), 中华人民共和国成立后一直在鞍钢炼铁厂工作。工作初期, 他经常到鞍钢几十里矿区刨冰雪, 抠器件, 扒铁堆, 铁房里分门别类地摆满了修好并擦洗干净的的各种的各种器材零件。孟泰说“国家搞建设跟自家过日子都一样, 一刻也离不开

勤俭。”1960年初，苏联停止对我国供应大型轧辊，致使鞍钢面临停产的威胁。孟泰等迅速动员和组织技术骨干，开展联合协作技术攻关，终于制成了大型轧辊，填补了我国冶金史上的空白。他创造了“眼睛要看到，耳朵要听到，手要摸到，水要掂到”所作所为操作法，凡是高炉循环水出故障，他都能手到病除，同行们送了他一个绰号“高炉神仙”。他与工人反复研究，改变过去冷却水顺炉淌的情形，排除了高炉发生爆炸事故的隐患。他抓住群众反映的问题不放过，一个一个地圆满解决……在鞍钢形成了经久不衰的“孟泰精神”。

——《“最美奋斗者”建议人选及事迹简介》

- (1) 根据材料并结合所学知识，说明“孟泰精神”产生的时代背景。(6分)
- (2) 根据材料并结合所学知识，概括孟泰为鞍钢发展所做出的贡献，并简述孟泰的精神品质。(9分)